

# 【中2数学 | 角度】

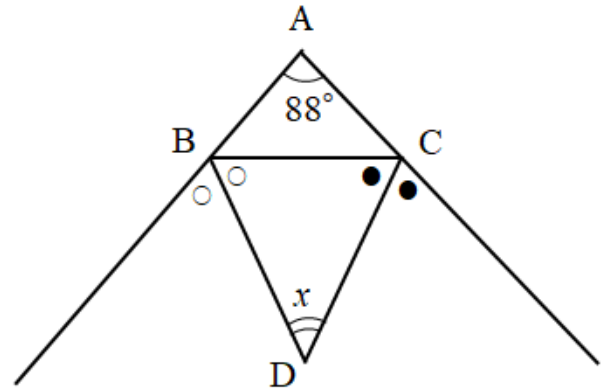
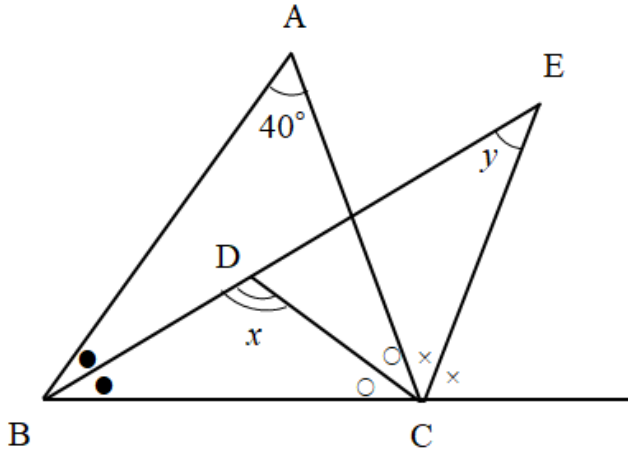
【1】 右の図において、 $\angle x$ 、 $\angle y$ の大きさを求めなさい。  
ただし、同じ印のついた角の大きさは同じだとする。

(1)

〔近畿大和歌山〕

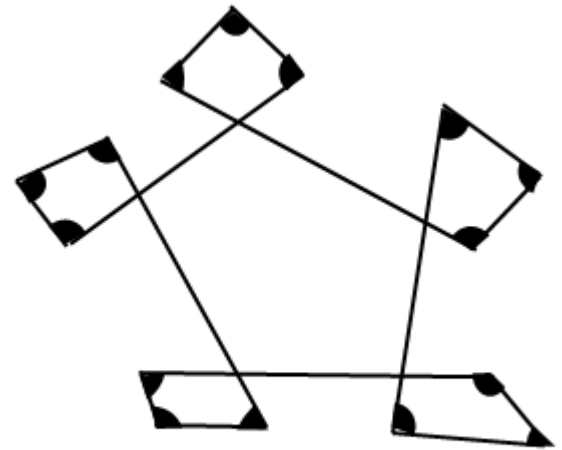
(2)

〔江戸川学園取手〕



【2】 次の図において、印のついている 15 個の角の総和は何度か  
求めなさい。

〔春日部共栄〕



YouTubeチャンネルも見てね▶ 『ふじわら塾長』で検索!!

